



CONCURSO PÚBLICO

PARA PREENCHIMENTO DE VAGAS DO QUADRO DE FUNCIONÁRIOS DA
PREFEITURA MUNICIPAL DE MASSAPÊ-CE – 001/2019

19 de maio de 2019



PROFESSOR DE GEOGRAFIA

NÚMERO DE INSCRIÇÃO

NOME DO CANDIDATO

ASSINATURA DO CANDIDATO

INSTRUÇÕES AO CANDIDATO

01. Você recebeu do fiscal o seguinte material:
 - a) Este caderno com **30 (trinta) questões** de prova, sem repetição ou falha;
 - b) O cartão de respostas destinado às respostas das questões objetivas formuladas na prova.
02. Verifique se este material está em ordem, preencha os espaços destinados ao seu nome, número de inscrição e cargo e assine no local especificado.
03. No cartão respostas, a marcação das letras correspondentes às respostas certas deve ser feita com caneta esferográfica de tinta preta ou azul.
04. Tenha muito cuidado com o cartão de respostas, pois o mesmo não poderá ser substituído.
05. Para cada uma das questões objetivas, são apresentadas 4 (quatro) alternativas classificadas com as letras (A), (B), (C) e (D). Somente uma corresponde adequadamente ao quesito proposto. Você só deve assinalar uma resposta. A marcação de mais de uma alternativa anula a questão. Mesmo que uma das respostas esteja correta.
06. Será eliminado do Concurso o candidato que:
 - a) Não apresentar o documento de identidade exigido pelo Regulamento do Concurso;
 - b) Ausentar-se da sala de provas antes do tempo mínimo de 60 (sessenta) minutos;
 - c) Ausentar-se da sala de provas, no tempo permitido, sem o acompanhamento do fiscal;
 - d) For surpreendido em comunicação com outro candidato ou terceiros, verbalmente, por escrito ou por qualquer outro meio de comunicação, sobre a prova que estiver sendo realizada, ou utilizando-se de máquinas calculadoras e/ou similares, livros, anotações, réguas de cálculo, impressos ou qualquer outro material de consulta, inclusive códigos e/ou legislação;
 - e) Durante a realização das provas, for surpreendido portando aparelhos eletrônicos, tais como bip, telefone celular, walkman, agenda eletrônica, notebook, palmtop, receptor, gravador, máquina de calcular, máquina fotográfica, controle de alarme de carro, pendrive, tablet, smartphone, mp3 player e similares, bem como relógio de qualquer espécie, óculos escuros ou quaisquer acessórios de chapelaria, tais como chapéu, boné, gorro, etc. e, ainda, lápis, lapiseira/grafite e/ou borracha, recipiente ou embalagem, tais como garrafas de água, suco, refrigerante e embalagens de alimentos (biscoitos, barras de cereais, chocolates) que não sejam fabricadas em material transparente ou que estejam com o rótulo;
 - f) Estiver portando, durante as provas, qualquer tipo de equipamento eletrônico de comunicação (ver *item e*) ou manter o equipamento ligado, mesmo que este esteja acomodado conforme previsto no Regulamento do Concurso (7.12.2 *Os pertences pessoais dos candidatos serão acomodados em local a ser indicado pelos fiscais, onde deverão ficar durante todo o período de permanência dos candidatos no local de prova*);
 - g) Lançar mão de meios ilícitos para executar as provas;
 - h) Não devolver o Cartão de Respostas e o Caderno de Questões;
 - i) Fizer anotação de informações relativas às suas respostas em qualquer outro meio que não o fornecido pelo PRÓ-MUNICÍPIO;
 - j) For flagrado descumprindo, durante a realização das provas, o disposto no item 7.11 do Regulamento;
 - k) Perturbar, de qualquer modo, a ordem dos trabalhos ou agir com descortesia para com qualquer dos examinadores, executores, fiscais e seus auxiliares ou autoridades presentes nos locais de provas;
 - l) Recusar-se a ser submetido ao detector de metal.
07. Reserve os 30 (trinta) minutos finais para marcar seu cartão de respostas. Os rascunhos e as marcações assinaladas no caderno de questões não serão levados em conta.
08. Ao terminar, entregue ao fiscal o caderno de questões e a folha de respostas e assine a folha de presença.
09. O tempo disponível para esta prova de questões objetivas é de 4 (quatro) horas.
10. Não esquecer de assinar o caderno de questões.

PREENCHA COM AS SUAS MARCAÇÕES ABAIXO E DESTAQUE NA LINHA PONTILHADA ACIMA

01	02	03	04	05	06	07	08	09	10	11	12	13	14	15
16	17	18	19	20	21	22	23	24	25	26	27	28	29	30



LÍNGUA PORTUGUESA

Leia o texto de Carlos Drummond de Andrade para responder às questões 01 e 02:

O Furto da Flor

Furtei uma flor daquele jardim. O porteiro do edifício cochilava, e eu furtei a flor.

Trouxe-a para casa e coloquei-a no copo com água. Logo senti que ela não estava feliz. O copo destina-se a beber, e flor não é para ser bebida.

Passei-a para o vaso, e notei que ela me agradecia, revelando melhor sua delicada composição. Quantas novidades há numa flor, se a contemplarmos bem.

Sendo autor do furto, eu assumira a obrigação de conservá-la. Renovei a água do vaso, mas a flor empalidecia. Temi por sua vida. Não adiantava restituí-la ao jardim. Nem apelar para o médico de flores. Eu a furtara, eu a via morrer.

Já murcha, e com a cor particular da morte, peguei-a docemente e fui depositá-la no jardim onde desabrochara. O porteiro estava atento repreendeu-me:

– Que ideia a sua, vir jogar lixo de sua casa neste jardim!

<https://www.literaturanaessencia.com.br>

QUESTÃO 01

Analise as afirmativas acerca do texto:

- I. O narrador-personagem, não satisfeito em observar a beleza da flor no habitat original, leva-a para casa e tenta conservá-la, no entanto, ao perceber que não conseguira, resolve, como forma de dirimir sua culpa, devolvê-la à natureza;
- II. No texto há predomínio de sequências dissertativas, uma vez que traz várias reflexões a serem feitas pelo leitor;
- III. “Nem apelar para o médico de flores.” O elemento coesivo “nem” tem valor semântico de adição;
- IV. O porteiro, no final do conto, mostra que percebeu o furto da flor e repreende o narrador-personagem pelo ato cometido por ele.

Estão corretas:

- A) Somente I e II;
- B) Somente I e III;
- C) Somente I, III e IV;
- D) Somente II, III e IV.

QUESTÃO 02

Marque a opção na qual o “a” é uma preposição:

- A) “O porteiro do edifício cochilava, e eu furtei **a** flor.”;
- B) “Quantas novidades há numa flor, se **a** contemplarmos bem.”;
- C) “O copo destina-se **a** beber, e flor não é para ser bebida.”;
- D) “Eu **a** furtara...”.



QUESTÃO 03

O texto a seguir servirá de base para a questão:

Pesquisadores do Brasil estão entre mais influentes do mundo

Os Estados Unidos são o país com maior número de pesquisadores mencionados, 2.639 ao todo; em seguida aparece o Reino Unido, com 546

Doze pesquisadores brasileiros estão entre os cientistas mais influentes do mundo em suas respectivas áreas de conhecimento. A lista, produzida anualmente pela empresa de consultoria Clarivate Analytics, desde 2014, considera o número de citações por artigos publicados em um período de dez anos. Os selecionados pertencem ao grupo de 1% de pesquisadores que mantiveram as mais altas médias de citações durante o período. Ao todo, foram selecionados cerca de 6 mil pesquisadores, em 21 áreas do conhecimento, além de campos transversais.

<https://www.terra.com.br/noticias/ciencia>

Considere as afirmações sobre o texto, julgando-as (V) verdadeiras ou (F) falsas:

- () Pelas características, o gênero do texto é notícia;
- () A função de linguagem predominante no texto é a conativa;
- () As palavras “país” e “média” são acentuadas pela mesma regra gramatical;
- () Em, “Os Estados Unidos são o país com maior número de pesquisadores mencionados”, a concordância verbal está correta, pois quando se trata de nomes que só existem no plural, a concordância deve ser feita levando-se em conta a ausência ou presença de artigo, no caso, concorda com o artigo “os”.

A sequência correta, de cima para baixo, é:

- A) V, F, F, V;
- B) V, F, V, F;
- C) F, V, F, V;
- D) F, F, V, V.

QUESTÃO 04

Assinale a opção cuja regência verbal está de acordo com a Gramática Normativa:

- A) Os filhos hoje não obedecem os pais como antigamente;
- B) Vou na loja procurar as promoções;
- C) Aspiro uma vida mais tranquila;
- D) Assisto, comovida, às notícias das enchentes de São Paulo.

QUESTÃO 05

Marque a opção em que a ortografia e o significado da palavra destacada está condizente com o contexto da frase:

- A) Tenha bom **censo** ao realizar as escolhas da vida;
- B) Não seja inconveniente, haja com **discrição**;
- C) O preso logo **dilatou** os comparsas;
- D) O candidato fora eleito no último **preito** para vereador.



RACIOCÍNIO LÓGICO MATEMÁTICO

QUESTÃO 06

A tabela abaixo obedece em cada coluna uma determinada sequência lógica diferente.

1	2	3
10	4	9
100	16	27
x	y	z

Observando a sequência a soma de $x + y + z$ é igual a:

- A) 1113;
- B) 1256;
- C) 1337;
- D) 1985.

QUESTÃO 07

O Sr. Osmar é cobrador de ônibus e está sempre atento ao número de passageiros que entra e sai do ônibus. Certo dia ele observou que o ônibus continha X passageiros no momento inicial e passados 6 minutos subiram 10 passageiros e após 15 minutos desceram 6 passageiros. Após 5 minutos desceram mais 4 passageiros. O ônibus permaneceu então com 32 passageiros até o destino do seu trajeto final. Marque a alternativa que corresponde à quantidade X de passageiros iniciais:

- A) 21;
- B) 23;
- C) 27;
- D) 32.

QUESTÃO 08

No estudo do Raciocínio Lógico existem as proposições condicionais.

Exemplo: "Se Tiago sair, então seu irmão assiste televisão."

Uma forma de negar a proposição acima é:

- A) Tiago não sai e seu irmão assiste televisão;
- B) Tiago não sai e seu irmão não assiste televisão;
- C) Tiago sai ou seu irmão não assiste televisão;
- D) Tiago sai e seu irmão não assiste televisão.

QUESTÃO 09

Se $A = \{1; 3; 8; 10\}$, $B = \{1; 3; 7\}$, $C = \{1; m; n; 10\}$, considere que $A = C$, então se pode afirmar que:

- A) $A \cap B = \{1; 3\}$ e $m = 3$; $n = 8$;
- B) $A \cap B = \{1; 3\}$ e $A - B = \{1; 3\}$;
- C) $A \cap B = \{1; 3\}$ e $m + n = 11$;
- D) $B \cap A = \{7\}$ e $B - C = \{7\}$.

QUESTÃO 10

Observe as sentenças

- I. "Feliz aniversário!"
- II. "João é cozinheiro."
- III. "Maria é nadadora ou veterinária."
- IV. "O aluno é engraçado."
- V. "Qual a sua idade?"

Sobre as sentenças marque a alternativa correta.

- A) Há 2 proposições simples, 1 proposição composta e 2 sentenças que não podem ser consideradas proposições;
- B) Há 3 proposições simples, 1 proposição composta e 1 sentença que não pode ser considerada proposição;
- C) Há 2 proposições simples, 2 proposições compostas e 1 sentença que não pode ser considerada proposição;
- D) Há 1 proposição simples, 2 proposições compostas e 2 sentenças que não podem ser consideradas proposições.



CONHECIMENTOS SOBRE O MUNICÍPIO DE MASSAPÊ

QUESTÃO 11

Massapê está localizada no noroeste cearense, microrregião de Sobral. Limita-se com os seguintes municípios, exceto:

- A) Santana do Acaraú;
- B) Meruoca;
- C) Senador Sá;
- D) Itarema.

QUESTÃO 12

Complete a lacuna:

A atividade legislativa municipal teve início com a eleição da primeira Câmara em 05 de janeiro de 1898. Empossados um mês depois e presididos por João Tibério Arruda, os vereadores elegeram _____ como o 1º Intendente de Massapê para governar por um ano.

- A) João Adeodato Ferreira;
- B) José Firmo Aguiar;
- C) Antônio Descartes Carneiro;
- D) Antônio Germiniano de Aguiar.

QUESTÃO 13

São atribuições do município, no âmbito do sistema de saúde, exceto:

- A) Planejar, organizar, gerir, controlar e avaliar as ações e os serviços de saúde;
- B) Gerir, executar, controlar e avaliar as ações referentes às condições e aos ambientes de trabalho;
- C) Executar a política de insumos e equipamentos para a saúde;
- D) Discriminar consórcios intermunicipais da saúde.

QUESTÃO 14

De acordo com a Lei Orgânica do Município de Massapê sobre a cultura, analise os itens:

- I. O Município apoiará as manifestações da cultura local e protegerá, por todos os meios ao seu alcance, obras, objetos, documentos e imóveis de valor histórico, artístico, cultural e paisagístico;
- II. A lei disporá sobre o tombamento de imóveis ou monumentos representativos da cultura e história de Massapê;
- III. O Poder Público preservará o Cine Teatro Municipal como patrimônio histórico e cultural do Município.

Estão corretas:

- A) Somente os itens I e II;
- B) Somente os itens I e III;
- C) Somente os itens II e III.
- D) I, II e III.

QUESTÃO 15

De acordo com a Lei Orgânica do Município de Massapê, a respeito da administração dos bens patrimoniais, marque V (verdadeiro) ou F (falso):

- () Compete ao Secretário de Administração a administração dos bens municipais, respeitada a competência da Câmara quanto aqueles empregados nos serviços desta;
- () As áreas transferidas ao Município em decorrência da aprovação de loteamentos serão consideradas bens dominiais se efetivarem benfeitorias que lhes deem outra destinação;
- () O Município poderá ceder a particulares, para serviços de caráter transitório, conforme regulamentação a ser expedida pelo Prefeito Municipal, máquinas e operadoras da Prefeitura, desde que os serviços da municipalidade não sofram prejuízo e o interessado recolha, previamente, a remuneração arbitrada e assine termo de responsabilidade pela conservação e devolução dos bens cedidos;
- () Nenhum servidor será dispensado, transferido, exonerado ou terá aceito o seu pedido de exoneração ou rescisão sem que o órgão responsável pelo controle dos bens patrimoniais da Prefeitura ou da Câmara Municipal ateste que o mesmo devolveu os bens imóveis do Município que estavam sob sua guarda.

Marque a alternativa que corresponde à sequência correta de cima para baixo:

- A) F, V, F, V;
- B) V, F, V, F;
- C) F, F, V, V;
- D) V, F, F, V.



CONHECIMENTOS ESPECÍFICOS

QUESTÃO 16

Leia o texto

A SOCIEDADE GLOBAL (Aldeia Global)

As pessoas se alimentam, se vestem, moram, se comunicam, se divertem, por meio de bens e serviços mundiais, utilizando mercadorias produzidas pelo capitalismo mundial, globalizado. Suponhamos que você vá com seus amigos comer Big Mac e tomar Coca-Cola no Mc Donald's. Em seguida, assiste a um filme de Steven Spielberg e volta para casa num carro de marca Mercedes. Ao chegar em casa, usa seu aparelho celular Apple para acessar o YouTube ver o videoclip de Beyoncé e, em seguida, deve assistir Stranger Things na Netflix. Veja quantas empresas transnacionais estiveram presentes nesse seu curto programa de algumas horas.

PRAXEDES et al. O Mercosul. SP, Ed. Ática, 1997. (Adaptado).

Sobre o texto marque a resposta correta.

- A) A globalização consiste numa dependência entre alguns países e está eliminando as particularidades culturais dos povos da terra;
- B) A cultura, transmitida por empresas transnacionais, tornou-se um fenômeno criador das novas nações mantendo as culturas antigas;
- C) A globalização estimula o surgimento de movimentos nacionalistas e protecionistas de forte cunho cultural e econômico;
- D) Existe uma uniformização de hábitos e a cultura vem sofrendo uma integração mundial, é a chamada globalização cultural.

QUESTÃO 17

A fronteira do México com os Estados Unidos tem protagonizado distintos processos de natureza social, econômica e espacial. Sobre essa realidade, considere as seguintes afirmativas:

- I. Observa-se um intenso processo migratório ilegal do México com destino aos Estados Unidos, desencadeando ações radicais por parte do governo americano, como a construção de um muro para marcar a fronteira e dificultar o ingresso de migrantes clandestinos nos EUA;
- II. Há uma importante relação industrial entre os dois países, sobretudo por meio da ação das maquiladoras, indústrias americanas instaladas do lado mexicano que se aproveitam de isenções tarifárias, importam componentes dos Estados Unidos, executam a montagem dos produtos utilizando-se do baixo custo da mão de obra mexicana e exportam os produtos acabados para os EUA, com preços normalmente abaixo daqueles praticados pelas indústrias que produzem em território americano;
- III. Os problemas existentes entre ambos os países podem ser atribuídos à separação física estabelecida por essa fronteira: o México compõe a América Central e os Estados Unidos a América do Norte;
- IV. A importância da fronteira entre EUA e México em relação à migração e ao processo de localização das maquiladoras se justifica pelo fato de as maiores cidades mexicanas estarem localizadas na região de fronteira, inclusive a capital, Cidade do México;
- V. As remessas de dólares que os imigrantes fazem para suas famílias no país de origem contribuem com expressiva parcela da economia mexicana.

São verdadeiras, as afirmativas:

- A) I e III, somente;
- B) II e IV, somente;
- C) II, III e V, somente;
- D) I, II e V, somente.



QUESTÃO 18

O filme *Montanhas da Lua* é muito especial para os geógrafos, pois retrata o surgimento da ciência geográfica, a serviço do Império Britânico. Essa obra narra a saga de Sir Richard Burton e John Speke na busca pela nascente do rio Nilo, na África, em meados do século XIX. Sobre esse rio, é correto afirmar que ele:

- A) Nasce no interior do continente africano e corre na direção norte, desaguando no mar Mediterrâneo;
- B) Nasce no coração da África Tropical e corre na direção leste, desaguando no Oceano Índico;
- C) Corta o deserto do Saara no norte africano e corre na direção sul, desaguando no Oceano Pacífico;
- D) Nasce no centro da África Equatorial e corre na direção oeste, desaguando no oceano Atlântico.

QUESTÃO 19

No Brasil, em 2016, aproximadamente 14 milhões de pessoas (14% da PEA) trabalhavam em atividades agrícolas. Os Censos Agropecuários do IBGE, entre 1985 e 2017, revelaram que cerca de 8,3 milhões de trabalhadores abandonaram as atividades agropecuárias, o que significou, nesse período, uma redução de 34% no contingente de trabalhadores agrícolas. Esses trabalhadores rurais estão submetidos a variadas relações de trabalho. A relação de trabalho na qual os trabalhadores são diaristas, recebendo por dia, de acordo com sua produtividade, e conseguem trabalho somente em determinada época do ano é denominada de:

- A) Trabalho temporário;
- B) Trabalho Assalariado;
- C) Parceria e Arrendamento;
- D) Escravidão por Dívida.

QUESTÃO 20

Considere um anúncio publicitário da maior empresa agroquímica do mundo, fornecedora de sementes transgênicas e o uso que se fez da cartografia.



<http://www2.fct.unesp.br>
O mapa da "República Unida da Soja"

Marque a opção que corresponde ao maior objetivo deste anúncio:

- A) Destacar a importância do agronegócio para os países sul-americanos e o apoio incondicional da empresa ao aumento da participação desses países no mercado internacional;
- B) Apresentar uma proposta de expansão da monocultura da soja baseada na dependência dos insumos agrícolas fornecidos pela empresa, desconsiderando as fronteiras dos países envolvidos;
- C) Considerar como resposta aos ecologistas que promovem campanhas para reduzir as áreas de cultivos de transgênicos, um retrocesso econômico para os países do MERCOSUL;
- D) Servir aos objetivos dos países envolvidos de expandir as suas atividades agroexportadoras para a obtenção de maiores recursos que seriam destinados à criação de infraestruturas sociais.



QUESTÃO 21

Sobre as fontes de energia, assinale V (para as verdadeiras) e F (para as falsas):

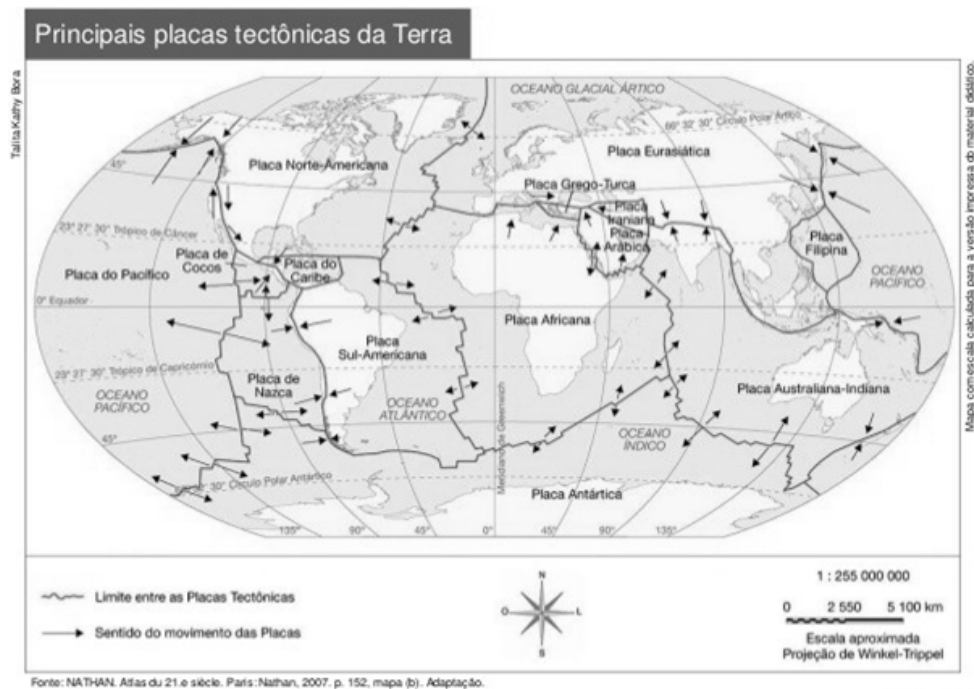
- () As usinas térmicas a gás natural são menos agressivas ao meio ambiente, se comparadas às usinas movidas a petróleo e, principalmente, às de carvão mineral;
- () O potencial hidrelétrico de um curso fluvial é proporcionado pela vazão hidráulica e pela concentração de desníveis existentes ao longo do curso de um rio;
- () O petróleo é aproveitado economicamente como fonte de energia e matéria-prima. Como fonte de energia, esse recurso é transformado em combustíveis, como o óleo diesel, a gasolina e o querosene;
- () O esforço muscular, assim como a maioria das fontes de energia derivadas de biomassas, é considerado não renovável.

A sequência correta, de cima para baixo, é:

- A) F, F, V, V;
- B) V, V, V, F;
- C) F, V, F, V;
- D) V, V, F, F.

QUESTÃO 22

Observe o mapa abaixo:



POSITIVO

A partir do mapa é correto afirmar que:

- A) O processo de convergência das placas Sul-Americana com a placa Africana, contribui com a formação de ilhas vulcânicas no Oceano Atlântico;
- B) A divergência das placas Sul-Americana e Africana contribuem com a expansão do assoalho marinho do Oceano Pacífico;
- C) A área de maior contato entre as placas tectônicas e de maior concentração de terremotos e vulcões está localizada na região do Oceano Pacífico e denomina-se Círculo de Fogo;
- D) Os terremotos ocorrem com frequência nos limites das placas tectônicas, como, por exemplo, na costa leste da América do Sul.



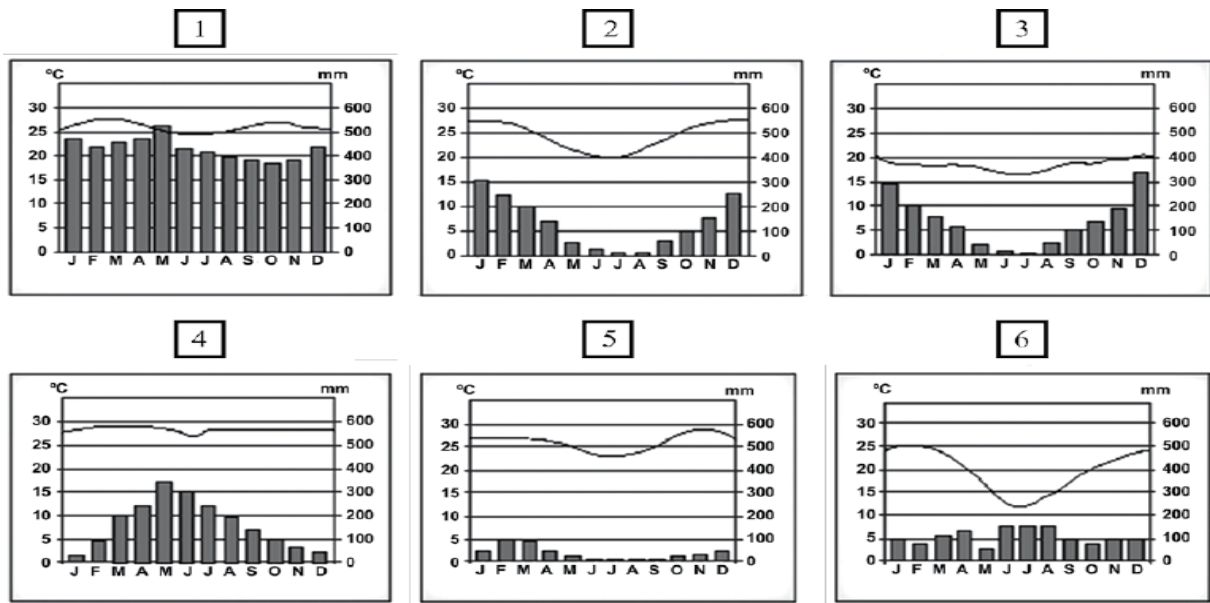
QUESTÃO 23

Desde o início da década de 1980, a China tem sido a economia que mais cresce no mundo, a uma taxa média de 10% ao ano. Em 1980, seu PIB era de 202 bilhões de dólares; em 2016, tinha atingido 11,4 trilhões de dólares. Sobre o tema indique a alternativa que explica esse crescimento rápido da economia chinesa:

- A) O aprofundamento da desigualdade social e regional, o que estimulou a migração interna;
- B) Aos elevados investimentos do Estado em infraestrutura e vantagens oferecidas aos capitais estrangeiros;
- C) Ao aumento dos impactos ambientais, com consequências graves para a saúde da população do país;
- D) Ao elevado custo da mão de obra qualificada, da terra, da energia e das matérias-primas do país.

QUESTÃO 24

Devido a sua extensão e posição geográfica, o território brasileiro é atingido por uma variedade de climas. Observe os gráficos que se associam a cada tipo climático brasileiro.



Ao observar os climogramas, indique a opção que representa a relação entre o gráfico e sua característica.

- A) O climograma 03 associa-se ao clima Equatorial, representado por temperaturas elevadas e alto índice pluviométrico;
- B) O climograma 01 caracteriza o tipo climático semiárido, típico do Sertão Nordestino que se destaca por apresentar baixos índices pluviométricos e altas temperaturas;
- C) A atuação da massa tropical atlântica no Nordeste brasileiro durante todo ano, contribui com os maiores índices pluviométricos da região;
- D) Caracterizado pelas altas temperaturas e baixos índices pluviométricos, o clima semiárido representado pelo climograma 03 é típico do Sertão Nordestino.

QUESTÃO 25

A economia brasileira se destaca por apresentar um grande volume de produtos agrícolas exportados. Essa exportação é favorecida por vários fatores que incentivam as transações comerciais. Sobre o tema, indique a alternativa que destaca esses fatores:

- A) Grande disponibilidade de terras agricultáveis, presença de importantes centros de pesquisa, formação de mão de obra qualificada;
- B) Deficiências de infraestrutura no setor de energia elétrica, políticas protecionistas por diversos países importadores, baixa disponibilidade de crédito;
- C) Disponibilidade de tecnologia de ponta, deficiência de infraestrutura nos setores de transporte e armazenamento, mão de obra qualificada;
- D) Mão de obra qualificada, disponibilidade de terras agricultáveis, presença de centros de pesquisa e deficiência de infraestrutura nos setores de transporte e de energia.



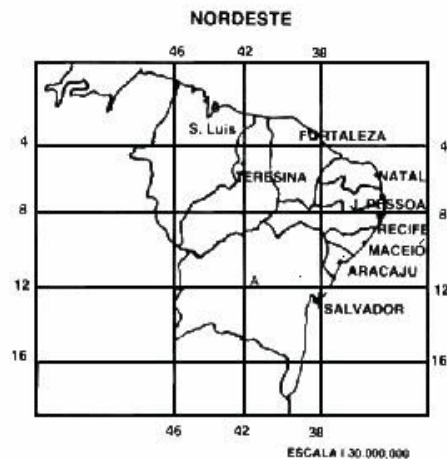
QUESTÃO 26

Denominações como lugar, região, território, paisagem e espaço geográfico são bastante utilizados no ensino e estudo da Geografia. Dentro deste contexto assinale a alternativa que define território:

- A) É a aparência da realidade geográfica, aquilo que nossa percepção auditiva, olfativa, tátil e principalmente visual capta;
- B) É conceituada como uma determinada área da superfície terrestre, com extensão variável, que apresenta características próprias e particulares que a diferenciam das demais;
- C) É o recorte do espaço geográfico sob o controle de um poder instituído e suas esferas subnacionais;
- D) É o ponto de partida para a compreensão do espaço geográfico em escalas nacional, regional ou mundial, estabelecendo laços afetivos, onde construímos nossa identidade cultural.

QUESTÃO 27

Observe a imagem:



Ao analisar a imagem, indique a opção que mostra as coordenadas geográficas aproximadas da cidade de Fortaleza capital do estado do Ceará:

- A) 38° Lat. Norte e 4° Long. Sul;
- B) 4° Lat. Sul e 38° de Long. Leste;
- C) 38° Lat. Norte e 4° Long. Oeste;
- D) 4° Lat. Sul e 38° Long. Oeste.

QUESTÃO 28

A hidrografia brasileira é muito rica, possuindo aproximadamente 12% de toda a água doce do mundo. Sobre essa massa de água superficial, assinale a opção correta que destaca uma característica da hidrografia do Brasil.

- A) Predominam os rios de planície, onde muitos escoam em áreas de baixos índices pluviométricos;
- B) Com exceção do rio Amazonas, os outros rios brasileiros possuem regime de alimentação simples pluvial;
- C) Todos os rios possuem drenagem endorreica, ou seja, escoam diretamente para o oceano;
- D) Há uma grande predominância de lagos tectônicos, embora possamos encontrar lagos de barragem e lagos de várzea temporários.



QUESTÃO 29

No dia 05 de novembro de 2015 ocorreu em Minas Gerais um dos maiores desastres ambientais da história do Brasil, o rompimento das barragens de Fundão e de Santarém. Ambas as barragens foram construídas para reter rejeitos sólidos e água durante o processo de mineração. Sobre o tema assinale a alternativa que retrata um impacto ambiental que ocorreu na área do desastre.

- A) Afetou a vida marinha da Lagoa Rodrigo de Freitas situada ao redor da área de mineração;
- B) Conservou o solo da região com a mistura de muitos minerais sobre ele, melhorando a sua fertilidade;
- C) Provocou a destruição de toda a vegetação do entorno dos rios afetados pelo soterramento;
- D) A poluição das águas do Rio São Francisco foi um dos maiores problemas causados por esse rompimento impactando toda a cadeia alimentar.

QUESTÃO 30

Mohamed Bouazizi comerciante nas ruas de Sidi, cidade localizada ao sul de Túnis, capital da Tunísia, indignado por ter seus produtos confiscados por fiscais corruptos ateou fogo em seu corpo provocando uma das maiores manifestações contra governos autoritários e corruptos em diversos países do norte da África. Essas manifestações ficaram conhecidas no mundo ocidental como:

- A) Primavera de Praga;
- B) Primavera Árabe;
- C) Primavera do Egito;
- D) Primavera Islâmica.

